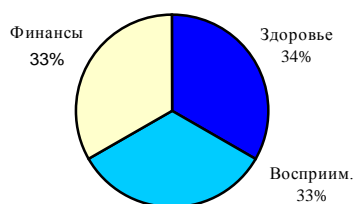


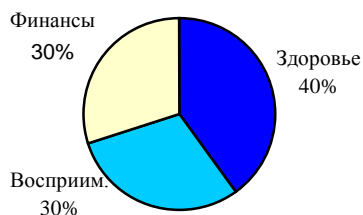
# ОТНОСИТЕЛЬНАЯ ВАЖНОСТЬ ЗАДАЧ СИСТЕМЫ ЗДРАВООХРАНЕНИЯ

1. Выберите рисунок, который более точно показывает, насколько важной Вы считаете каждую из этих трех задач системы здравоохранения, или нарисуйте свой рисунок в (h).

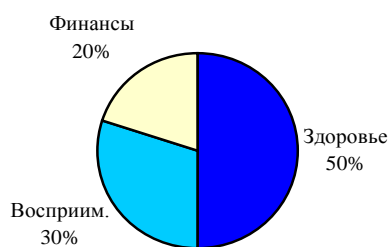
a)



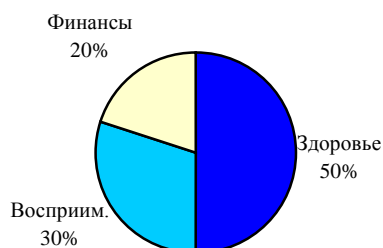
b)



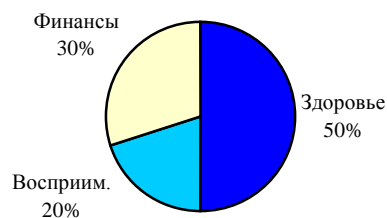
c)



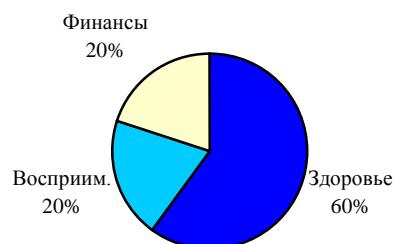
d)



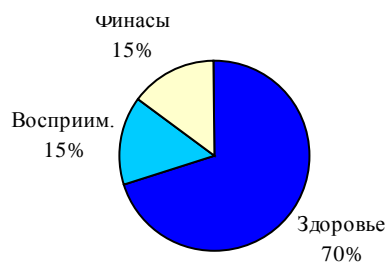
e)




f)



g)



h) Другое (укажите)

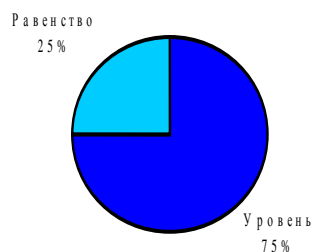


Пожалуйста, разделите этот рисунок на части. Подпишите каждую часть и укажите, какую долю от 100 представляет каждая из этих частей.

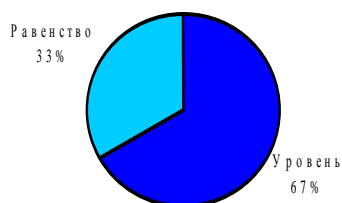
## **ЗДОРОВЬЕ: УЛУЧШЕНИЕ ОБЩЕГО УРОВНЯ ПО СРАВНЕНИЮ С УЛУЧШЕНИЕМ РАВЕНСТВА**

2. Выберите рисунок, который более точно показывает, насколько важным Вы считаете улучшение общего уровня здоровья по сравнению с улучшением равенства здоровья населения, или нарисуйте свой рисунок в (f).

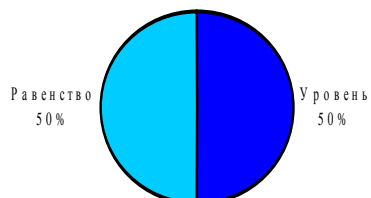
a)



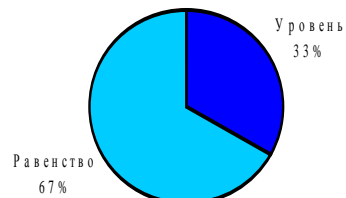
b)



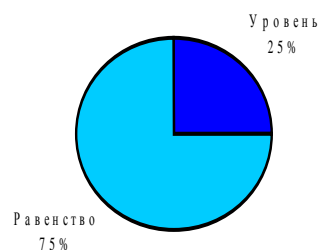
c)




d)



e)



f) Другое (укажите)

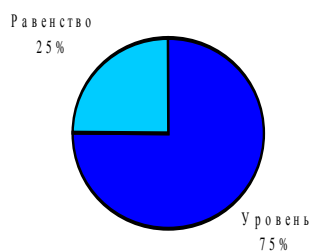


Пожалуйста, разделите этот рисунок на части. Подпишите каждую часть и укажите, какую долю от 100 представляет каждая из этих частей.

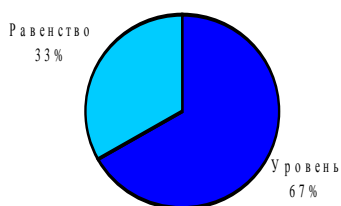
### ВОСПРИИМЧИВОСТЬ: УЛУЧШЕНИЕ ОБЩЕГО УРОВНЯ ПО СРАВНЕНИЮ С УЛУЧШЕНИЕМ РАВЕНСТВА

3. Выберите рисунок, который более точно показывает, насколько важным Вы считаете улучшение среднего уровня восприимчивости по сравнению с улучшением равенства восприимчивости для населения, или нарисуйте свой рисунок в (f).

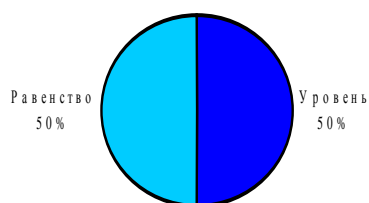
a)



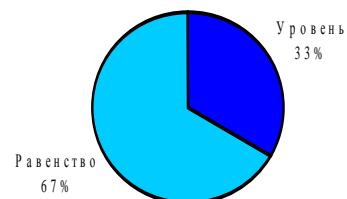
b)



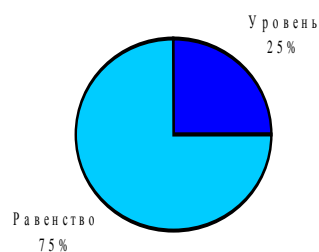
c)




d)



e)



f) Другое (укажите)



Пожалуйста, разделите этот рисунок на части. Подпишите каждую часть и укажите, какую долю от 100 представляет каждая из этих частей.